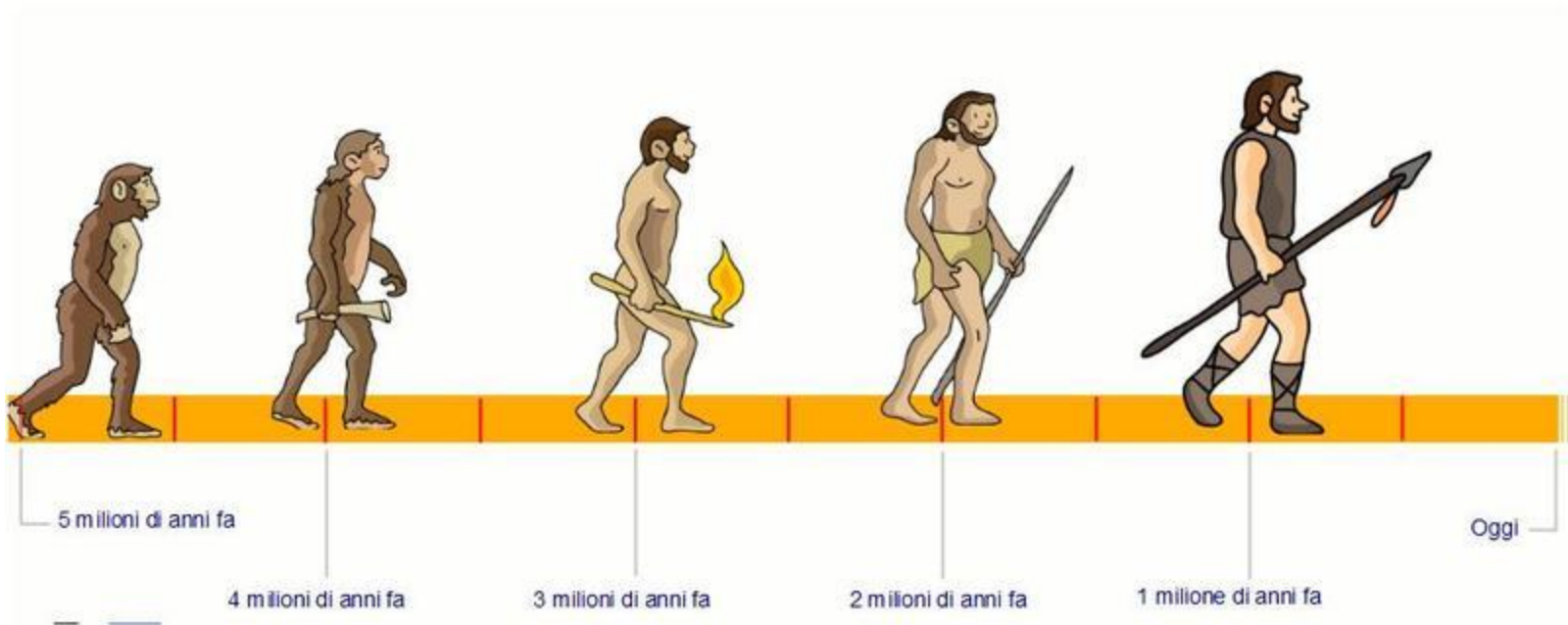





PERCORSO DI STORIA: L'EVOLUZIONE DELL'UOMO



CLASSI: TERZE SCUOLA PRIMARIA

L'evoluzione dell'uomo

INIZIO PREISTORIA



PALEOLITICO

NEOLITICO

AUSTRALOPITECO

Fronte e cervello piccoli;

Braccia lunghe;

Corpo ricoperto di peli;

Pollice opponibile

HOMO HABILIS

Cervello più sviluppato;

Viveva in piccoli gruppi;

Era nomade;

Comunicava con gesti e suoni;

costruiva **strumenti in pietra**

HOMO ERECTUS

Stava dritto;

Scoprì il fuoco;

Era nomade;

Viveva in capanne.

HOMO DI NEANDERTAL

corpo robusto e muscoloso;

realizzava indumenti;

Realizzava utensili in selce, legno osso

Viveva in clan

HOMO SAPIENS: HOMO DI CRO-MAGNON

Cervello molto sviluppato;

Era in grado di coltivare, allevare, lavorare i metalli;

Inventarono L'arco;

Dipingeva

• 1. 1 AUSTRALOPITECO



ERA NOMADE: SI
SPOSTAVA IN
CONTINUAZIONE

CHI ERA?

ERA UN OMINIDE

DOVE VISSE?

VISSE IN AFRICA




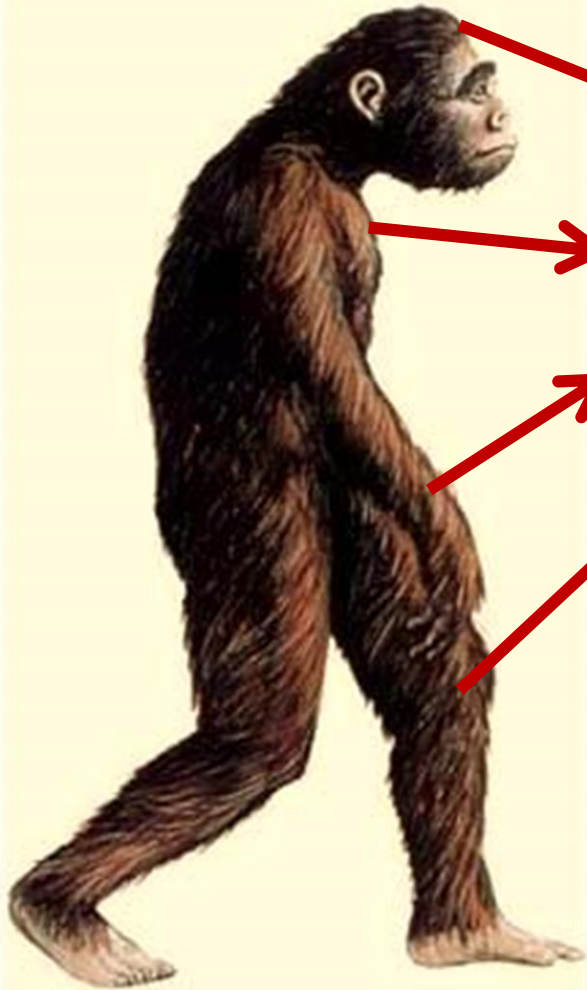
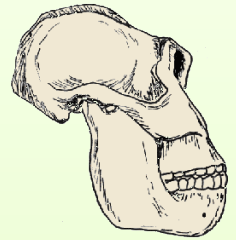
DORMIVA NELLE CAVERNE O SUGLI ALBERI



• 1. 2 AUSTRALOPITECO

COM'ERA FISICAMENTE?

- AVEVA CERVELLO PICCOLO E FRONTE BASSA;
- CORPO RICOPERTO DI PELI;
- BRACCIA LUNGHE;
- CAMMINAVA SU DUE GAMBE;
- ERA IN GRADO DI AFFERRARE BASTONI E PIETRE UTILI PER DIFENDERSI DAGLI ANIMALI FEROCI MA ANCHE PER APRIRE FRUTTI DURI




* 1. 3 AUSTRALOPITECO

COSA MANGIAVA?

**ERA ONNIVORO E
MANGIAVA:**

- BACCHE;
- ERBA E FOGLIE;
- PICCOLI ANIMALI

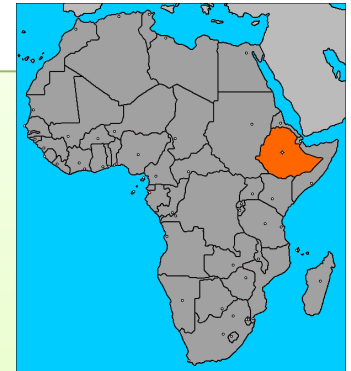


* 1. 4 UN FOSSILE DI AUSTRALOPITECO: LUCY



LUCY E' IL NOME DELL'OMINIDE CHE FU
RITROVATO NEL 1974 DAI PALEONTOLOGI IN
ETIOPIA (AFRICA).

ESAMINANDO LO SCHELETRO E' STATO
POSSIBILE STABILIRE COME ERANO COME
VIVEVANO E COSA MANGIAVANO GLI OMINIDI




- **1. 5 AUSTRALOPITECO: VERIFICA:**
metti una x su vero o falso

	V	F
GLI AUSTRALOPITECHI SONO OMINIDI		
GLI AUSTRALOPITECHI SONO SCIMMIE		
GLI AUSTRALOPITECHI CAMMINAVANO A 4 ZAMPE		
GLI AUSTRALOPITECHI ERANO ONNIVERI		
GLI AUSTRALOPITECHI VISSERO IN ITALIA		
GLI AUSTRALOPITECHI ERANO IN GRADO DI AFFERRARE		
LUCY E' IL NOME DI UN OMINIDE		

* PREISTORIA: IL PALEOLITICO

1.1 HOMO HABILIS = UOMO ABILE



ERA **NOMADE**: SI
SPOSTAVA IN
CONTINUAZIONE IN
GRUPPO

DOVE VISSSE?

NELLA SAVANA DELL'AFRICA



DORMIVA :

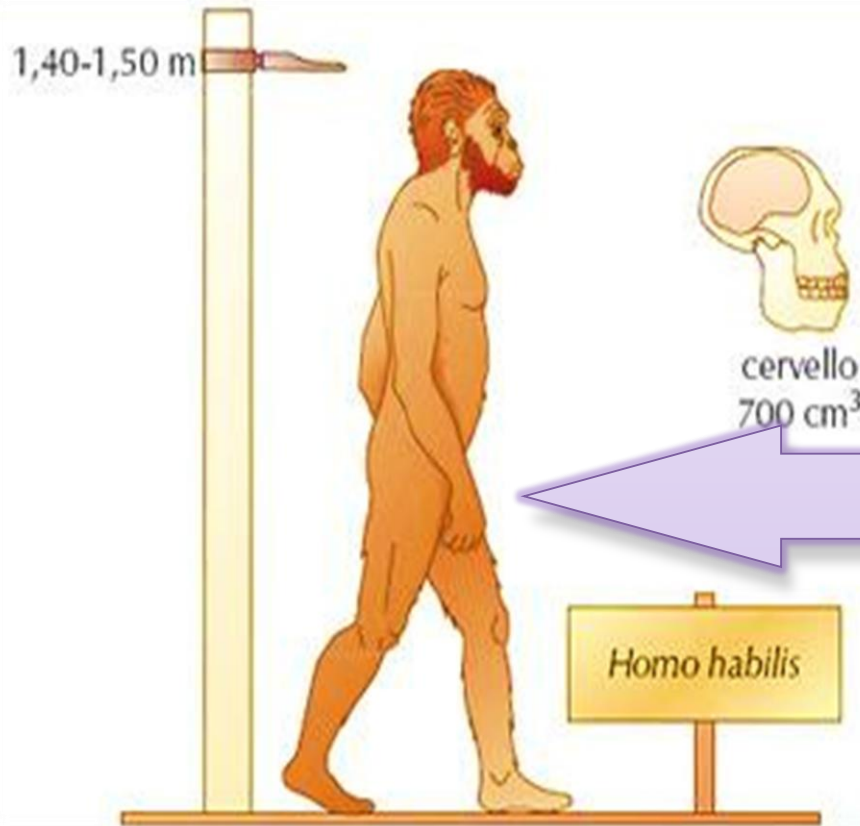
IN CAVERNE



IN RIPARI CON PIETRE E RAMI



1.2 HOMO HABILIS = UOMO ABILE




CARATTERISTICHE FISICHE

- CERVELLO PIU' SVILUPPATO;
- ERA PIU' ALTO DELL'AUSTRALOPITECO;
- CAMMINAVA PIU' VELOCEMENTE;
- ERA IN GRADO DI COMPIERE MOVIMENTI PIU' ARTICOLATI CON LE MANI;
- COMUNICAVA CON GESTI.

1.3 HOMO HABILIS = UOMO ABILE

ALIMENTAZIONE



ERA ONNIVORO:

- MANGIAVA LA CARNE DI ANIMALI GIA' MORTI;
- CACCIAVA PICCOLE PREDE;
- MANGIAVA FRUTTI E RADICI

A cura di Anna Carmelitano

1.4 HOMO HABILIS = UOMO ABILE

PERCHE' UOMO ABILE?

L'HOMO HABILIS ERA UN ABILE COSTRUTTORE

DI UTENSILI: CREO' I CHOPPER CHE ERANO PIETRE

CHE VENIVANO AFFILATE DA UN LATO RENDENDOLE


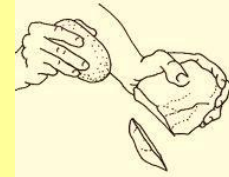
TAGLIENTI.

I CHOPPER VENIVANO AFFILATI CON LA SELCE UNA

PIETRA MOLTO DURA.

1.5 HOMO HABILIS = UOMO ABILE

A COSA SERVIVANO
I CHOPPER?



TAGLIAVA LE CARNI
DEGLI ANIMALI



AFFILAVA BASTONI E
SCAVAVA NEL TERRENO


1.6 HOMO HABILIS = UOMO ABILE

VERIFICA 1: LEGGI LE AFFERMAZIONE E METTI UNA X SU VERO O FALSO

	V	F
L'HOMO HABILIS ERA ERBIVORO		
L'HOMO HABILIS SI CHIAMAVA COSI' PERCHE' ERA ABILE NEL CORRERE		
L'HOMO HABILIS ERA IN GRADO DI LAVORARE LA PIETRA		
L'HOMO HABILIS VIVEVA IN CASE DI MATTONI		
L'HOMO HABILIS ERA PIU' ALTO DELL'AUSTRALOPITECO		
L'HOMO HABILIS ERA ONNIVORO		
IL CHOPPER ERA UNA PIETRA SCHEGGIATA SU DI UN LATO		

1.6 HOMO HABILIS = UOMO ABILE

VERIFICA 2: OSSERVA L'IMMAGINE E RISPONDI ALLE DOMANDE

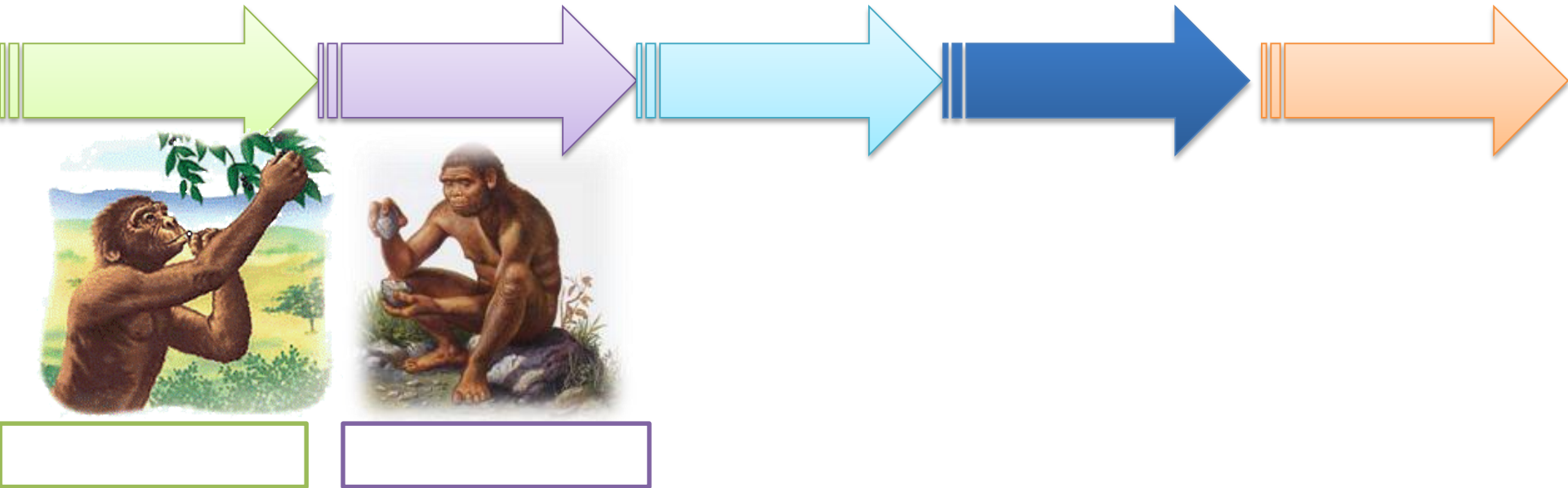


COSA HA IN MANO?

COME SI CHIAMA QUESTA?

COME SI CHIAMA QUESTO?
A COSA SERVIVA?

- LINEA della storia dell'uomo: completa



1.1 HOMO ERECTUS: UOMO DRITTO



DOVE VISSE?



ASIA




EUROPA



ERA NOMADE: SI SPOSTAVA IN
CONTINUAZIONE IN GRUPPI DI
FAMIGLIE

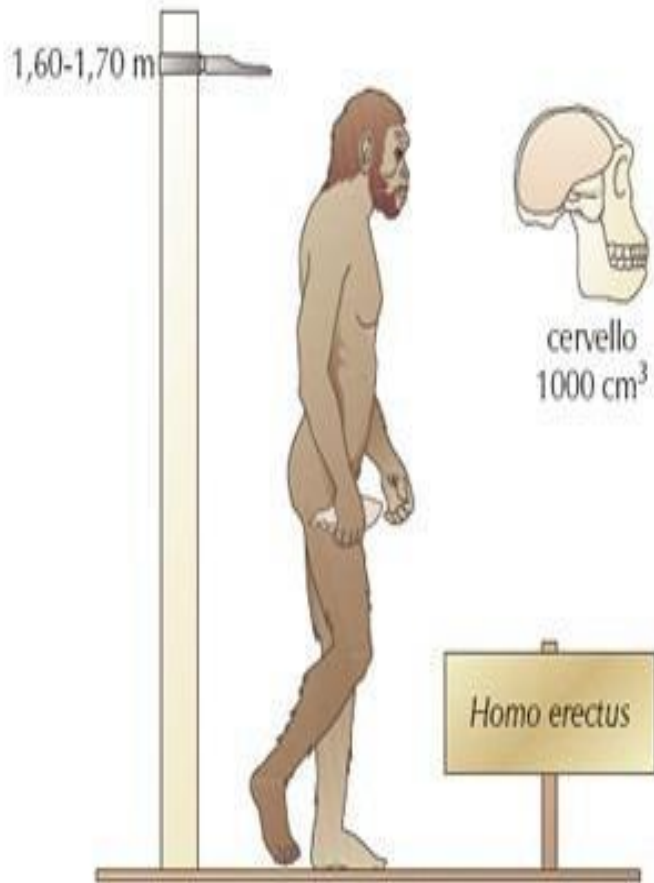
1.2 HOMO ERECTUS: UOMO DRITTO

DOVE SI RIPARAVA?



IN CAPANNE
COSTRUITE CON
RAMI E TRONCHI
D'ALBERO

1.3 HOMO ERECTUS: UOMO DRITTO

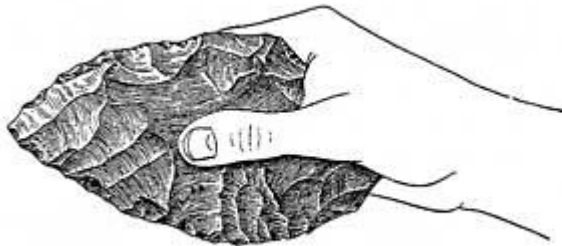


CARATTERISTICHE FISICHE:

- STATURA PIU'ALTA;
- CERVELLO PIU' SVILUPPATO;
- CORPO ROBUSTO;
- SVILUPPO' UNA PRIMA FORMA DI LINGUAGGIO

1.4 HOMO ERECTUS: UOMO DRITTO

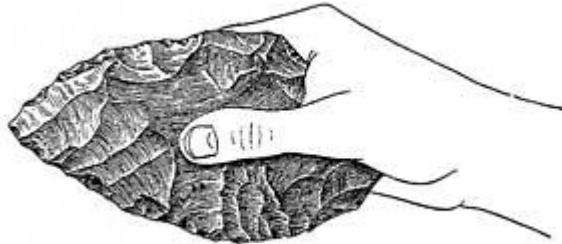
L'HOMO ERECTUS MIGLIORO' LA TECNICA DI LAVORAZIONE DELLA PIETRA: SCHEGGIANDOLA DA ENTRAMBI I LATI OTTENNE UNO STRUMENTO A FORMA DI MANDORLA CHIAMATO **AMIGDALA**



COSTRUI' NUOVE
ARMI COME
LANCE ASCE UTILI
A DIFENDERSI
DAGLI ANIMALI E
AD UCCEDERLI



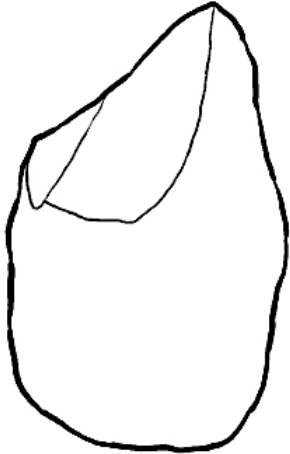
**ATTIVITA' : OSSERVA L'AMIGDALA E METTI LA X
SULLE AFFERMAZIONI ESATTE**



RISPETTO AL CHOPPER L'AMIGDALA ERA:

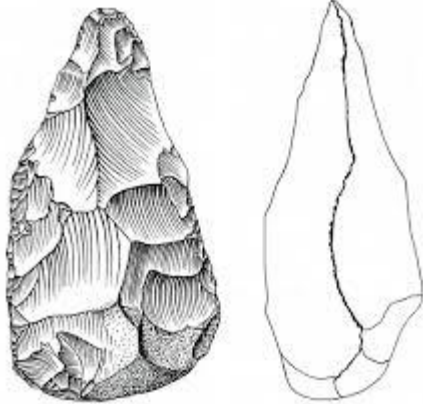
- SCHEGGIATA SU DUE LATI;
- SCHEGGIATA DA UN SOLO LATO;
- PIU' TAGLIENTE;
- MENO TAGLIENTE

ATTIVITA': OSSERVA LE IMMAGINI, SCRIVI DI COSA SI TRATTA E METTI LA X SULLE AFFERMAZIONI ESATTE



E' UN _____

- E' STATO COSTRUITO DALL'HOMO ERECTUS;
- E' STATO COSTRUITO DALL'HOMO HABILIS;
- E' UN UTENSILE SCHEGGIATO DA DUE LATI;
- E' UN UTENSILE SCHEGGIATO DA UN LATO




SONO DELLE _____

- E' STATO COSTRUITO DALL'HOMO ERECTUS;
- E' STATO COSTRUITO DALL'HOMO HABILIS;
- E' UN UTENSILE SCHEGGIATO DA DUE LATI;
- E' UN UTENSILE SCHEGGIATO DA UN LATO

1.5 HOMO ERECTUS: UOMO DRITTO

LA SCOPERTA DEL FUOCO



LO **STROFINIO** DI DUE RAMETTI
DI LEGNO SECCHI



L'HOMO ERECTUS CAPI'
CHE POTEVA CCENDERE
IL FUOCO TRAMITE:



LA **PERCUSSIONE** DI DUE PIETRE

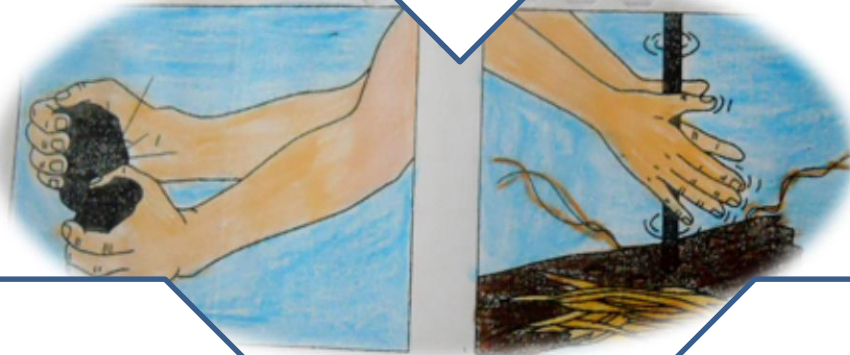
ATTIVITA' I VANTAGGI DEL FUOCO: OSSERVA LE IMMAGINI E VERBALIZZA A VOCE O SUL QUADERNO

IL FUOCO E' UTILE PER

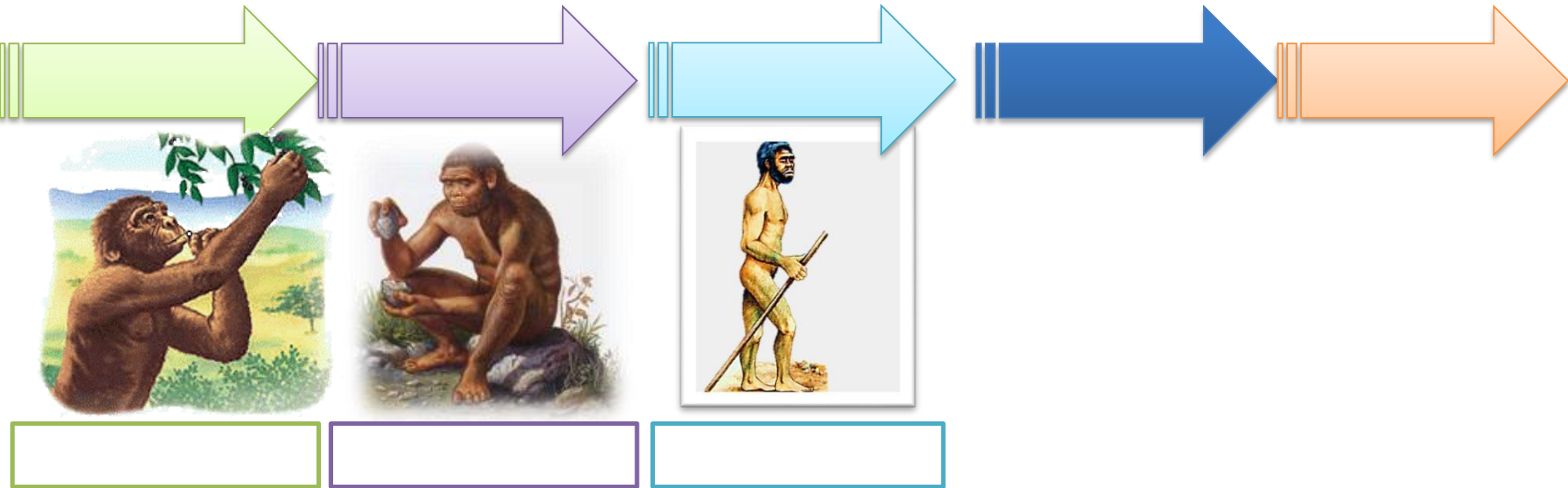


ATTIVITA': osserva le due immagini, rispondi alla domanda e scrivi quale metodo e' utilizzato in ciascuna

COSA SI STA CERCANDO DI FARE?



- LINEA della storia dell'uomo: completa



HOMO ERECTUS

VERIFICA 1: LEGGI LE AFFERMAZIONI E METTI UNA X SU VERO O FALSO

	V	F
L'HOMO ERECTUS FU CHIAMATO COSI' PERCHE' ASSUMEVA UNA POSIZIONE ERETTA		
TRA HOMO HABILIS E HOMO ERECTUS NON CI SONO DIFFERENZE FISICHE		
L'HOMO ERECTUS VISSE SOLO IN AFRICA		
L'HOMO ERECTUS FU IL PRIMO A SCHEGGIARE LA PIETRA		
L'HOMO ERECTUS FU IL PRIMO A SCHEGGIARE LA PIETRA DA DUE LATI		
L'HOMO ERECTUS COSTRUI' L'AMIGDALA		
L'AMIGDALA E' PIU' TAGLIANTE RISPETTO AL CHOPPER		
LE AMIGDALE NON VENIVANO MAI USATE		
L'HOMO ERECTUS DIVENTO' UN BUON CACCIATORE		
L'HOMO ERECTUS NON ERA IN GRADO DI COSTRUIRE STRUMENTI DI CACCIA		

HOMO ERECTUS

VERIFICA 2: INSERISCI NEL TESTO LE PAROLE MANCANTI


IL PRIMO UOMO AD UTILIZZARE IL FUOCO FU _____

IMPARO' AD ACCENDERLO _____ DUE PIETRE O

_____ DUE RAMI DI LEGNO SECCO.

CON IL FUOCO L'UOMO IMPARO' A:

- ❖ _____
- ❖ _____
- ❖ _____
- ❖ _____



HOMO ERECTUS

VERIFICA 3: LEGGI I PARAGRAFI E DAI A CIASCUNO IL TITOLO ADATTO

ALIMENTAZIONE ATTIVITA' LUOGO E DATA DELLA COMPARSA MODO DI
VIVERE CARATTERISTICHE FISICHE

L'HOMO ERECTUS AVEVA CERVELLO E CRANIO SIMILI AI NOSTRI. ERA PIU' ALTO E DRITTO DELL'AUSTRALOPITECO. ERA MOLTO AGILE.

ONNIVORO. BACCHE, ERBE, CARNE, RADICI.

AFRICA, ASIA, EUROPA 1 MILIONE EMEZZO DI ANNI FA.

NOMADE, IN PICCOLI GRUPPI.

CACCIA, PESCA, RACCOLTA
SCHEGGIATURA DELLA PIETRA.

1.1 L'HOMO DI NEANDERTHAL



DOVE VISSE?

EUROPA

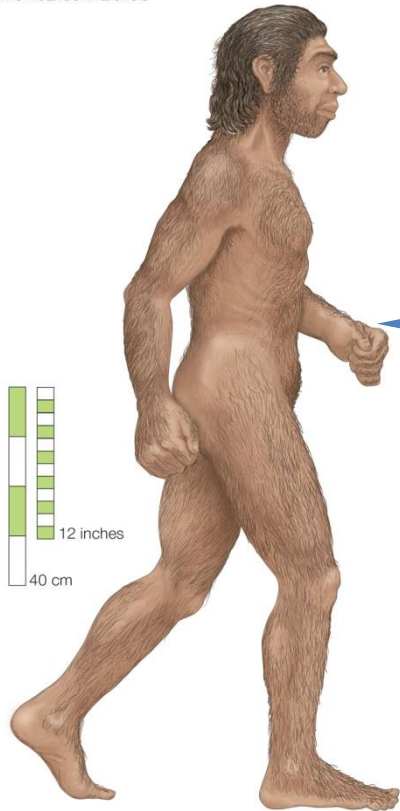


ERA **NOMADE**: SI SPOSTAVA IN
CONTINUAZIONE IN CLAN CON
PIU' FAMIGLIE

I SUOI RESTI FOSSILI
FURONO TROVATI IN
UNA VALLE DELLA
GERMANIA DI NOME
THAL VICINO AL FIUME
NEANDER...

1.2 HOMO DI NEANDERTHAL

Homo neanderthalensis



CARATTERISTICHE FISICHE

- CERVELLO PIU' SVILUPPATO;
- NON ERA MOLTO ALTO;
- GROSSE SOPRACCIGLIA;
- CORPO ROBUSTO E MUSCOLOSO;
- MANI FORTI E DENTI MOLTO RESISTENTI;

1.3 HOMO DI NEANDERTHAL

SAPEVA COSTRUIRE UTENSILI SEMPRE PIU' PERFETTI
FATTI DI SELCE OSSO, LEGNO...



ZAPPA IN LEGNO E SELCE



COLTELLO IN SELCE E
OSSO

UTILI PER UCCIDERE GLI ANIMALI, PER SCUOIARE,
TAGLIARE, PULIRE LE PELLI, PERFORARE LEGNO E OSSO

1.4 HOMO DI NEANDERTHAL



SI UNIVA IN GRUPPO PER
CACCIARE GRANDI ANIMALI
COME MAMMUT, BISONTI

GRAZIE AI GRANDI ANIMALI
POTEVA:

- NUTRIRSI CON LE LORO
CARNI;
- RIPARARSI DAL FREDDO
CON LE LORO PELLI;
- COSTRUIRE CAPANNE
CON LE LORO OSSA.



foto tratta da internet


A cura di Anna Carmelitano

1.5 HOMO DI NEANDERTHAL





FURONO I PRIMI A **SEPPELLIRE I PROPRI DEFUNTI** IN UNA FOSSA ROTONDA O RETTANGOLARE, METTENDOGLI VICINO OSSA DI ANIMALI O FIORI DI CAMPO.

ATTIVITA': DESCRIVI L'HOMO DI NEANDERTHAL SECONDO LO SCHEMA



<u>ASPETTO FISICO:</u> STATURA , CORPORATURA, CAPELLI, CRANIO, NASO, DENTI	
<u>ABBIGLIAMENTO</u>	
<u>ATTIVITA LAVORATIVE</u>	
<u>ALIMENTAZIONE</u>	
<u>FU IL PRIMO A...</u>	

- LINEA della storia dell'uomo: completa



HOMO DI NEANDERTHAL

VERIFICA 1: LEGGI LE AFFERMAZIONE E METTI UNA X SU VERO O FALSO

	V	F
L'HOMO DI NEANDERTHAL ERA CARNIVORO		
L'HOMO DI NEANDERTHAL VISSE IN AFRICA		
L'HOMO DI NEANDERTHAL ERA IN GRADO DI LAVORARE LA PIETRA E NON SOLO...		
L'HOMO DI NEANDERTHAL FU IL PRIMO AD UTILIZZARE IL FUOCO		
L'HOMO DI NEANDERTHEL ERA MOLTO ALTO		
L'HOMO DI NEANDERTHAL FU IL PRIMO A SEPPELLIRE I MORTI		
L'HOMO DI NEANDERTHAL NON ERA IN GRADO DI CACCIARE GRANDI ANIMALI		

HOMO DI NEANDERTHAL

VERIFICA 2: OSSERVA L'IMMAGINE E SCRIVI CIO' CHE ACCADE.
O SCEGLI LA RISPOSTA CORRETTA



- STANNO CURANDO UN MALATO
- STANNO SEPPELLENDO UNA PERSONA MORTA;
- STANNO PREGANDO.

1.1 L'HOMO SAPIENS: UOMO SAPIENTE



ERA **NOMADE**: SI
SPOSTAVA IN
CONTINUAZIONE


DOVE VISSE?



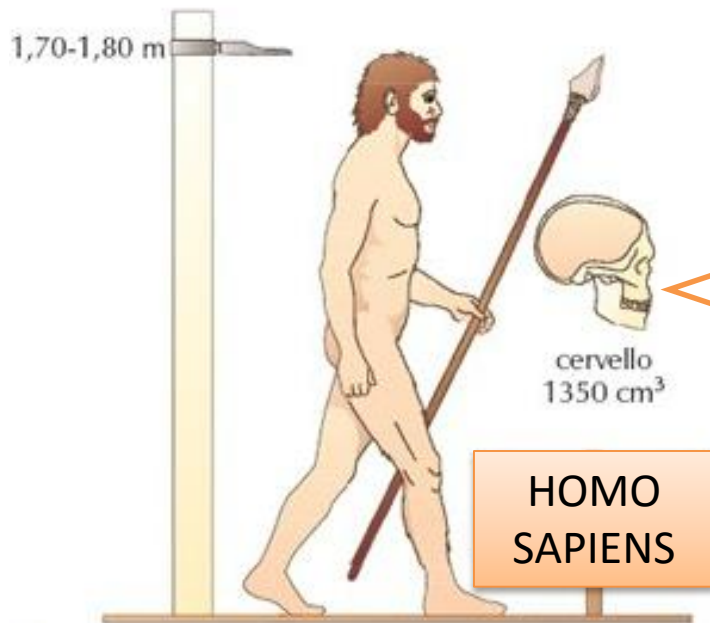
POPOLO' TUTTA LA TERRA

1.2 L'HOMO SAPIENS: UOMO SAPIENTE

DOVE SI RIPARAVA?



1.3 L'HOMO SAPIENS: UOMO SAPIENTE



CARATTERISTICHE FISICHE

- CERVELLO SVILUPPATO COME AL NOSTRO;
- ERA ALTO E LONGILINEO;
- VOLTO MENO SPORGENTE;
- DENTI PIU' VICINI;

1.4 L'HOMO SAPIENS: COSA SAPEVA FARE?



DIPINGEVA SULLE PARETI
DELLE CAVERNE



SI DEDICAVA ALLA CACCIA E
ALLA PESCA



COLTIVAVA LA TERRA




ERA IN GRADO DI COSTRUIRE
UTENSILI COMPLESSI COME
FRECCE E ARCHI



1.4.1 L'HOMO SAPIENS: COSA SAPEVA FARE?

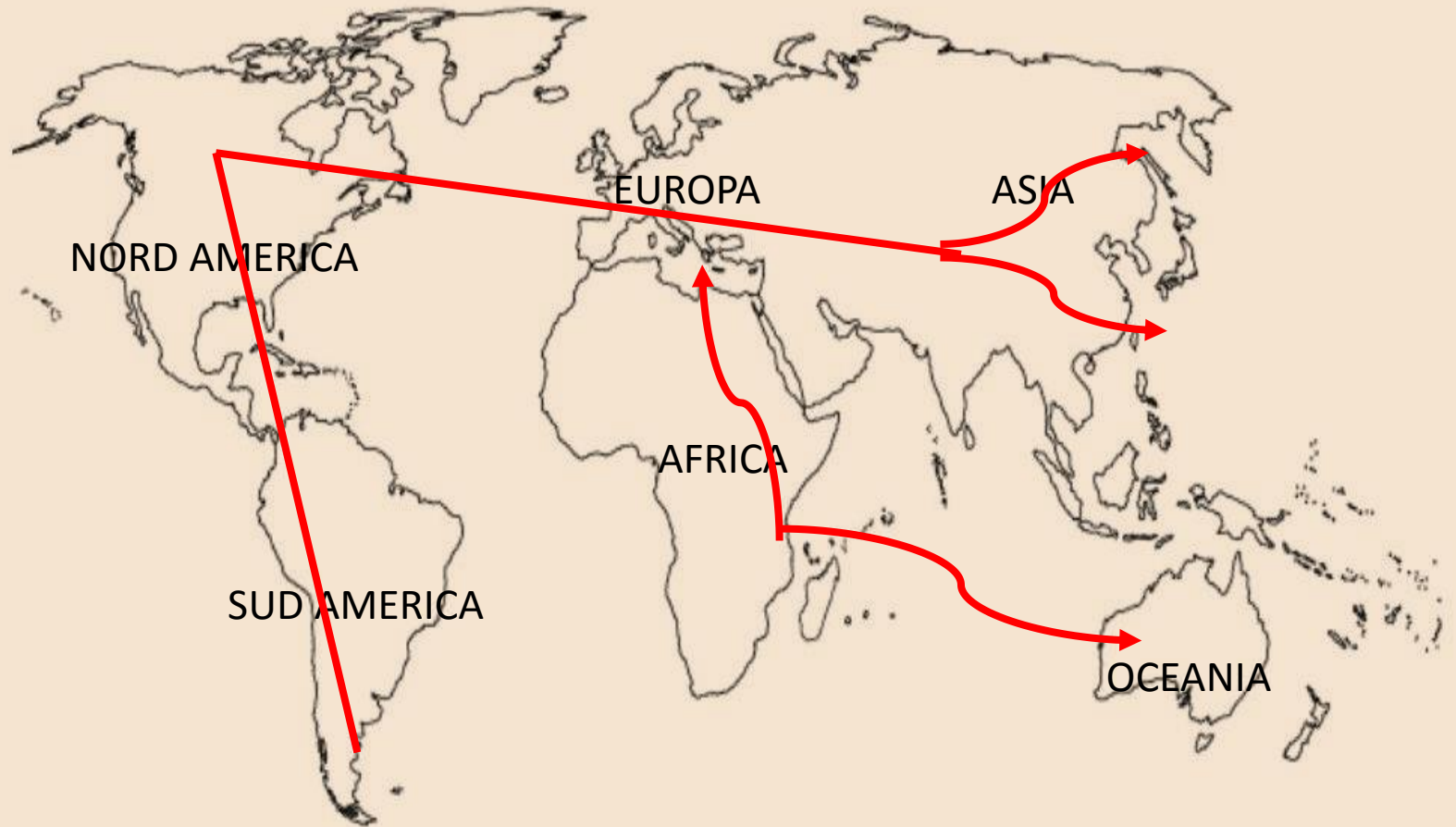
LINGUAGGIO



FU IL PRIMO AD
UTILIZZARE SEMPLICI
PAROLE PER
COMUNICARE

ATTIVITA': OSSERVA E RISPONDI

LE MIGRAZIONI DELL'HOMO SAPIENS



COSA ILLUSTRRA LA CARTA? RISPONDI SUL QUANDERNO

ATTIVITA': OSSERVA E RISPONDI



CHE TIPO DI FONTE STORICA RAPPRESENTA?

(METTI UNA X SULLA RISPOSTA CORRETTA)



- FONTE SCRITTA;
- FONTE ORALE;
- FONTE VISIVA;
- FONTE ICONOGRAFICA



RISPONDI SUL QUADERNO

- ❖ QUALI ANIMALI RICONOSCI?
- ❖ COSA E' RAPPRESENTATO NEL SECONDO DIPINTO?
- ❖ PERCHE' L'HOMO SAPIENS DIPINGEVA LE GROTTE?

- LINEA della storia dell'uomo: completa






HOMO SAPIENS

VERIFICA 1: LEGGI LE AFFERMAZIONE E METTI UNA X SU VERO O FALSO

	V	F
AVEVA IL CERVELLO SIMILE AL NOSTRO		
FU IL PRIMO AD ACCENDERE IL FUOCO		
COSTRUIVA CAPANNE E TENDE		
NON SAPEVA PESCARE NEI FIUMI		
COMUNICAVA CON URLA E GESTI		
SI DIFFUSE SOLO IN AFRICA		
SVILUPPO' CAPACITA' ARTISTICHE		

1.1 VERIFICHE: L'EVOLUZIONE DELL'UOMO

LE IMMAGINI RAPPRESENTANO L'EVOLUZIONE DELL'UOMO. **NUMERALE** DA 1 A 5



1.2 VERIFICHE: L'EVOLUZIONE DELL'UOMO

COLLEGA OGNI IMMAGINE ALLA SPECIE UMANA CORRISPONDENTE

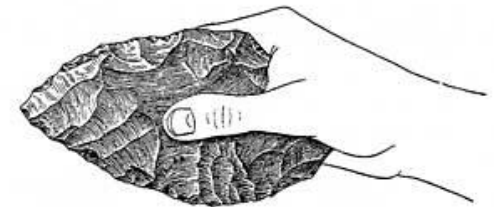
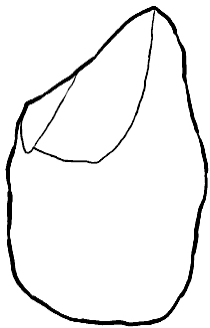


HOMO HABILIS

HOMO ERECTUS

HOMO DI NEANDERTHAL

HOMO SAPIENS



A cura di Anna Carmelitano

VERIFICHE 1.3: L'EVOLUZIONE DELL'UOMO

COLLEGA OGNI DEFINIZIONE ALL'UOMO GIUSTO

CACCIAVA PICCOLE PREDE

AVEVA UNA POSIZIONE ERETTA

FABBRICAVA I CHOPPER

DORMIVA SUGLI ALBERI

AVEVA IL CERVELLO PIU' GRANDE E

SVILUPPATO

AUSTRALOPITECO

HOMO HABILIS

VERIFICHE 1.4: L'EVOLUZIONE DELL'UOMO

COLLEGA OGNI DEFINIZIONE ALL'UOMO GIUSTO

CACCIAVA PICCOLE PREDE

SAPEVA ACCENDERE IL FUOCO

FABBRICAVA I CHOPPER

LEVIGAVA LA PIETRA DA DUE LATI

UTILIZZAVA IL FUOCO PER CUCINARE LA

CARNE

HOMO ERECTUS

HOMO HABILIS

VERIFICHE 1.5: L'EVOLUZIONE DELL'UOMO

COLLEGA OGNI DEFINIZIONE ALL'UOMO GIUSTO

VISSE IN AFRICA E IN EUROPA

VIVEVA IN TENDE COSTRUITE CON OSSA DI MAMMUT

SI ESTINSE

VISSE IN TUTTO IL MONDO

ERA UN'ARTISTA

FU IL PRIMO A SEPPELLIRE I MORTI

FU IL PRIMO AD UTILIZZARE SEMPLICI PAROLE PER COMUNICARE

HOMO DI NEANDERTHAL

HOMO SAPIENS

VERIFICHE 1.5: L'EVOLUZIONE DELL'UOMO

RISPONDI CON UNA X

1. QUALE FU IL PRIMO OMINIDE?

- L'AUSTRALOPITECO;
- L'HOMO ERECTUS;

2. QUALE DI QUESTI DUE STRUMENTI ERA AFFILATO SU DUE LATI?

- AMIGDALA;
- CHOPPER

3. CHI ACCESE PER PRIMO IL FUOCO?

- HOMO ERECTUS;
- HOMO HABILIS

4. DOVE VISSE L'HOMO DI NEANDERTHAL?

- ASIA;
- AFRICA

5. CHI DIPINSE LE PARETI DELLE GROTTI?

- HOMO ERECTUS;
- HOMO SAPIENS

6. QUALE UOMO POPOLO' LA TERRA DOPO QUELLO DI NEANDERTHAL??

- HOMO ERECTUS;
- HOMO SAPIENS

VERIFICHE 1.6: L'EVOLUZIONE DELL'UOMO

METTI UNA X SU VERO O FALSO

	V	F
VIVEVANO SEMPRE NELLO STESSO POSTO		
COSTRUIVANO UTENSILI SCHEGGIANDO LE PIETRE		
COSTRUIVANO CAPANNE E TENDE		
NON SAPEVANO PESCARE NEI FIUMI		
DIPINGEVANO SULLE PARETI		
SI DIFFUSERO SOLO IN AFRICA		
SEPPELLIVANO I MORTI		

• LINEA DEL TEMPO PREISTORIA

PALEOLITICO

NEOLITICO


STORIA

ETA' DELLA PIETRA ANTICA:




L'UOMO SCHEGGIA LA PIETRA.
L'UOMO E' NOMADE
VIVEVA NELLE CAVERNE

ETA' DELLA PIETRA DI MEZZO:



L'UOMO COSTRUISCE CAPANNE, UTILIZZA IL FUOCO E DIPINGE



ETA' DELLA PIETRA NUOVA:



L'UOMO COLTIVA, ALLEVA COSTRUISCE PALAFITTE



L'UOMO DIVENTA SEDENTARIO

NASCE LA SCRITTURA

